





10 Fragen zur Orientierung

Serie 2021_01

1.	Wo auf der Karte ist Osten?	A	linker Kartenrand
		B	rechter Kartenrand
		C	oberer Kartenrand
		D	unterer Kartenrand
2.	Bei welchem Azimut liegt Südwesten?	A	45°
		B	135°
		C	225°
		D	315°
3.	Wo befindet sich der Punkt, der als Basis der Höhenmessung in der Schweiz dient?	A	In Zürich
		B	In Basel
		C	In Bern
		D	In Genf
4.	Was bedeutet die Abkürzung GPS?	A	Geographical Pointing Solution
		B	Geodata Printing System
		C	Global Positioning System
		D	General Placing Software
5.	2 km entsprechen auf der Karte 1:25'000 welcher Länge?	A	10 cm
		B	8 cm
		C	4 cm
		D	2 cm
6.	Welches ist die Bezeichnung des aktuell gültigen Koordinatennetzes der Schweiz?	A	Swissgrid
		B	LV95
		C	CH-Net
		D	Swisstopo

7.-10. Signaturen der neuen Landeskarte 1:25'000

Mögliche Antworten A: Reben B: Schiessstand C: Gemeindegrenze D: Hochspannungsleitung E: Hügel F: Bahntunnel G: Kiesgrube H: Luftseilbahn I: Skilift J: Baumschule	Notiere den Buchstaben der passenden Bezeichnung zur folgenden Signatur.	
	7.	 <input type="text"/>
	8.	 <input type="text"/>
	9.	 <input type="text"/>
	10.	 <input type="text"/>

Übertrage die 10 Lösungsbuchstaben der Reihe nach in diese Tabelle:	1	2	3	4	5	6	7	8	9	10
	<input type="text"/>	<input type="text"/>	<input type="text"/>	<input type="text"/>	<input type="text"/>	<input type="text"/>	<input type="text"/>	<input type="text"/>	<input type="text"/>	<input type="text"/>