





10 Fragen zur Orientierung

Serie 2021_02

1.	Wo auf der Karte ist Westen?	A	linker Kartenrand
		B	rechter Kartenrand
		C	oberer Kartenrand
		D	unterer Kartenrand
2.	Bei welchem Azimut liegt Südosten?	A	45°
		B	135°
		C	225°
		D	315°
3.	Wo befindet sich der Koordinatenpunkt 600 000 / 200 000?	A	In Zürich
		B	In Basel
		C	In Bern
		D	In Genf
4.	Was bedeutet der Begriff «Äquidistanz»	A	Höhenunterschied zwischen zwei Höhenlinien
		B	Differenz zwischen zwei Isobaren.
		C	Abstand zwischen den Koordinatenlinien
		D	Breite eines Flusses
5.	4mm auf der Karte 1:25'000 entsprechen in Wirklichkeit welcher Distanz?	A	1 m
		B	10 m
		C	100 m
		D	1'000 m
6.	Je nach Bodenbeschaffenheit haben Höhenkurven die folgenden Farben.	A	grün / schwarz / braun
		B	blau / grün / braun
		C	braun / blau / schwarz
		D	braun / schwarz / gelb

7.-10. Signaturen der neuen Landeskarte 1:25'000

Mögliche Antworten	Notiere den Buchstaben der passenden Bezeichnung zur folgenden Signatur.
A: offener Wald	7.  <input type="text"/>
B: Schiessstand	8.  <input type="text"/>
C: Gemeindegrenze	9.  <input type="text"/>
D: Hochspannungsleitung	10.  <input type="text"/>
E: Hügel	
F: Bahntunnel	
G: Senke	
H: Luftseilbahn	
I: Skilift	
J: Baumschule	

Übertrage die 10 Lösungsbuchstaben der Reihe nach in diese Tabelle:	1	2	3	4	5	6	7	8	9	10