





10 Fragen zur Orientierung

Serie 2021_03

1.	Wo auf der Karte ist Süden?	A	linker Kartenrand
		B	rechter Kartenrand
		C	oberer Kartenrand
		D	unterer Kartenrand
2.	Welcher Richtung entspricht das Azimut von 270°?	A	Osten
		B	Süd-Osten
		C	Süd-Westen
		D	Westen
3.	Der Koordinatenpunkt 600 000 / 200 000 befindet sich in Bern. Welche Koordinaten hat ein Punkt, der genau 10 km westlich von diesem Punkt in Bern liegt.	A	610 000 / 200 000
		B	600 000 / 210 000
		C	590 000 / 200 000
		D	600 000 / 190 000
4.	Wie gross ist die Äquidistanz auf der Karte 1:25'000 im Mittelland?	A	100m
		B	20m
		C	10m
		D	5m
5.	6 cm auf der Karte 1:25'000 entsprechen in Wirklichkeit welcher Distanz?	A	2,5 km
		B	1,5 km
		C	250 m
		D	150 m
6.	Welche Farbe haben die Bahnen auf der neuen Landeskarte 1:25:000?	A	Schwarz
		B	Rot
		C	Braun
		D	Lila

7.-10. Signaturen der neuen Landeskarte 1:25'000

	Mögliche Antworten		Notiere den Buchstaben der passenden Bezeichnung zur folgenden Signatur.	
			7.	 <input type="text"/>
			8.	 <input type="text"/>
			9.	 <input type="text"/>
			10.	 <input type="text"/>

Übertrage die 10 Lösungsbuchstaben der Reihe nach in diese Tabelle:	1	2	3	4	5	6	7	8	9	10
	<input type="text"/>	<input type="text"/>	<input type="text"/>	<input type="text"/>	<input type="text"/>	<input type="text"/>	<input type="text"/>	<input type="text"/>	<input type="text"/>	<input type="text"/>