





10 Fragen zur Orientierung

Serie 2021_05

1.	Wo auf der Karte ist Westen?	A	linker Kartenrand
		B	oberer Kartenrand
		C	rechter Kartenrand
		D	unterer Kartenrand
2.	Welcher Richtung entspricht das Azimut von 135°?	A	Nord-Osten
		B	Süd-Osten
		C	Süd-Westen
		D	Nord-Westen
3.	Welcher der folgenden Koordinatenpunkte liegt <u>nicht</u> in der Schweiz?	A	720 500 / 080 200
		B	500 005 / 150 051
		C	256 460 / 538 700
		D	833 638 / 167 067
4.	Der Referenzpunkt für die Höhenmessung liegt in Genf. Wie heisst er?	A	Repère Pierre du Niton
		B	Le Père Pierre de Nyon
		C	La Pierre Père de Nitro
		D	Le rocher de l'altitude
5.	25 cm auf der Karte 1:25'000 entsprechen in Wirklichkeit welcher Distanz?	A	10 km
		B	6.25 km
		C	1 km
		D	0.625 km
6.	Wie sind Postauto-Haltestellen auf der Karte 1:25'000 eingezeichnet.	A	Schwarzer Punkt
		B	Rotes Dreieck
		C	Gelber Kreis
		D	Sie sind nicht eingezeichnet

7.-10. Signaturen der neuen Landeskarte 1:25'000

Mögliche Antworten A: Campingplatz B: Antenne C: Triangulationspunkt D: Kraftwerk E: Denkmal F: Spital G: Wasserturm H: Helikopterlandeplatz I: Brunnen J: Kirchturm	Notiere den Buchstaben der passenden Bezeichnung zur folgenden Signatur.	7.		<input type="text"/>
		8.		<input type="text"/>
		9.		<input type="text"/>
		10.		<input type="text"/>

Übertrage die 10 Lösungsbuchstaben der Reihe nach in diese Tabelle:	1	2	3	4	5	6	7	8	9	10
	<input type="text"/>	<input type="text"/>	<input type="text"/>	<input type="text"/>	<input type="text"/>	<input type="text"/>	<input type="text"/>	<input type="text"/>	<input type="text"/>	<input type="text"/>