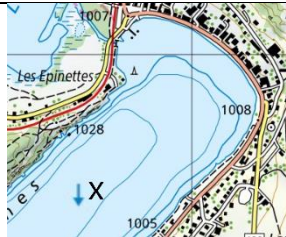






10 Fragen zur Orientierung

Serie 2021_06

1.	Wo auf der Karte ist Osten?	A	linker Kartenrand
		B	oberer Kartenrand
		C	rechter Kartenrand
		D	unterer Kartenrand
2.	Welcher Richtung entspricht das Azimut von 315°?	A	Nord-Osten
		B	Süd-Osten
		C	Süd-Westen
		D	Nord-Westen
3.	Welcher der folgenden Koordinatenpunkte liegt <u>nicht</u> in der Schweiz?	A	833 638 / 167 067
		B	500 005 / 150 051
		C	720 500 / 080 200
		D	456 460 / 538 700
4.	 Welche Zahl ist im Kartenausschnitt für das X möglich?	A	8
		B	18
		C	28
		D	38
5.	25 km entsprechen auf der Karte 1:25'000 welcher Länge?	A	625 cm
		B	100 cm
		C	62.5 cm
		D	10 cm
6.	Wie sind Grenzsteine einer Kantonsgrenze auf der Karte 1:25'000 eingezeichnet?	A	Schwarzes Kreuz
		B	Rosa Punkt
		C	Roter Kreis
		D	Sie sind nicht eingezeichnet
7.-10.	Signaturen der neuen Landeskarte 1:25'000		
	Mögliche Antworten A: Campingplatz B: Trockenmauer C: Triangulationspunkt D: Ruine E: Denkmal F: Spital G: Wasserturm H: Helikopterlandeplatz I: Hochkamin J: Kirchturm	Notiere den Buchstaben der passenden Bezeichnung zur folgenden Signatur. 7.  <input type="text"/> 8.  <input type="text"/> 9.  <input type="text"/> 10.  <input type="text"/>	

Übertrage die 10 Lösungsbuchstaben der Reihe nach in diese Tabelle:	1	2	3	4	5	6	7	8	9	10