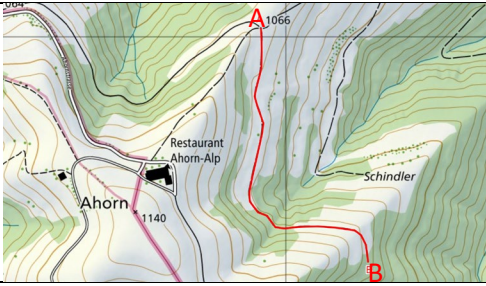










10 Fragen zur Orientierung

Serie 2023_03

1.	Wo auf der Karte ist Osten?	A	linker Kartenrand
		B	oberer Kartenrand
		C	rechter Kartenrand
		D	unterer Kartenrand
2.	Welcher Richtung entspricht das Azimut von 225°?	A	Nord-Osten
		B	Süd-Osten
		C	Süd-Westen
		D	Nord-Westen
3.	Wir befinden uns ungefähr beim Punkt mit den Koordinaten 2'632'800 / 1'210'800. Welcher Punkt liegt genau 50 km nördlich von diesem Punkt?	A	2'632'800 / 1'210'850
		B	2'632'800 / 1'260'800
		C	2'632'850 / 1'210'800
		D	2'682'800 / 1'210'800
4.		Welches Profil entspricht dem rot eingezeichneten Weg von A nach B?	A 
			B 
			C 
			D 
5.	20 km entsprechen auf der Karte 1:25'000 welcher Länge?	A	50 cm
		B	80 cm
		C	5 cm
		D	8 cm
6.	Welche Farben haben Höhenkurven auf der Karte 1:25'000?	A	braun, blau, schwarz
		B	grün, blau, braun
		C	schwarz, grün, blau
		D	blau, grün, braun

7.-10. Signaturen der neuen Landeskarte 1:25'000

Mögliche Antworten	Notiere den Buchstaben der passenden Bezeichnung zur folgenden Signatur.
A: Skilift	7.  <input type="text"/>
B: Hochspannungsleitung	8.  <input type="text"/>
C: Schmalspurbahn	9.  <input type="text"/>
D: Kantonsgrenze	10.  <input type="text"/>
E: Wasserstollen	
F: Durchfahrtssperre	
G: Förderband	
H: Gemeindegrenze	
I: Luftseilbahn	
K: Bahntunnel	